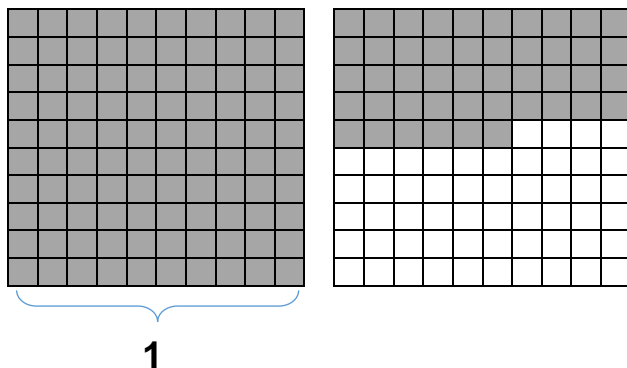


Exercice fractions (1)

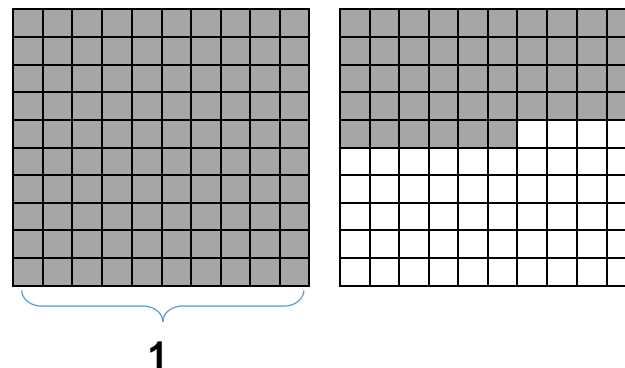


Combien représente la partie coloriée en gris ?

Ecris sous la forme d'une fraction décimale :

Ecris sous la forme d'un nombre décimal :

Exercice fractions (1)

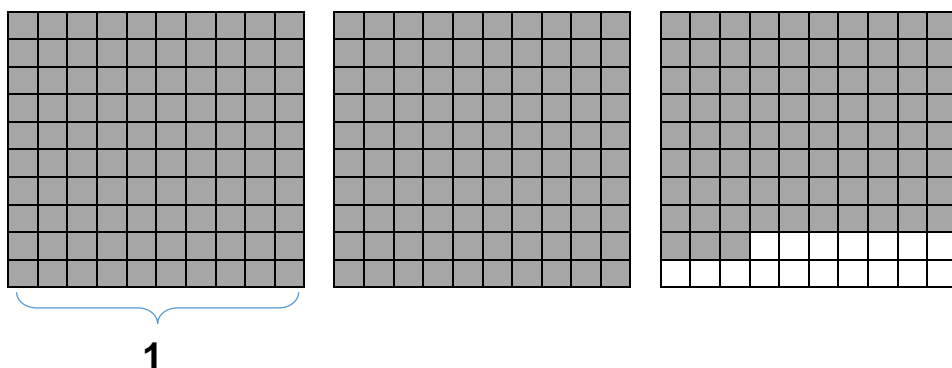


Combien représente la partie coloriée en gris ?

Ecris sous la forme d'une fraction décimale :

Ecris sous la forme d'un nombre décimal :

Exercice fractions (2)

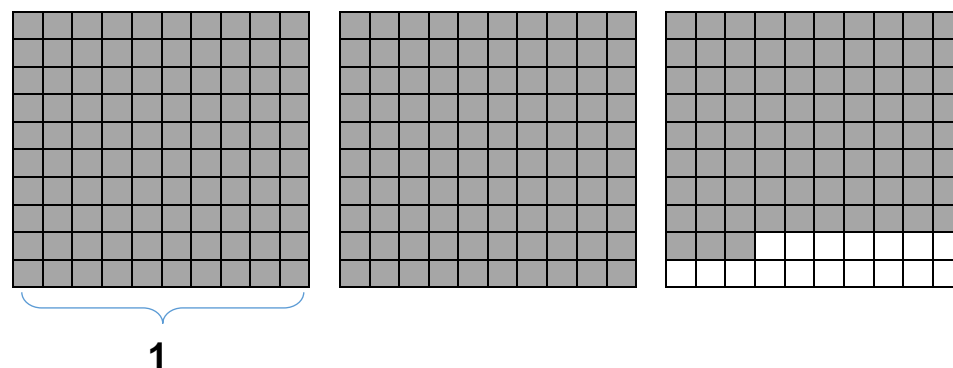


Combien représente la partie coloriée en gris ?

Ecris sous la forme d'une fraction décimale :

Ecris sous la forme d'un nombre décimal :

Exercice fractions (2)



Combien représente la partie coloriée en gris ?

Ecris sous la forme d'une fraction décimale :

Ecris sous la forme d'un nombre décimal :